

فارسی

۱- معنی کدام واژه، نادرست است؟

(۲) واپسین: آخرین

(۱) حول و حوش: دور و بر

(۴) هجوم: حمله

(۳) یک غازی: حاکم

۲- کدام گزینه، دارای واژه‌ای هم آوا با املا و معنی متفاوت است؟

(۴) قضا ☐

(۳) ثروت ☐

(۲) عهد ☐

(۱) حدس ☐

۳- کدام گزینه با واژه‌ی "نامه"، واژه‌ی جدیدی نمی‌سازد؟

(۴) گذر ☐

(۳) فکر ☐

(۲) پیمان ☐

(۱) ماه ☐

۴- عبارت زیر، از چند جمله تشکیل شده است؟

"ای خدای آسمان‌ها! مرا یاری کن تا سرزمین ایران را از دست دشمنان رها کنم."

(۴) یک ☐

(۳) چهار ☐

(۲) دو ☐

(۱) سه ☐

۵- ساخت کدام گزینه، با بقیه متفاوت است؟

(۴) خوددار ☐

(۳) خودنویس ☐

(۲) خودمختار ☐

(۱) خودبین ☐

۶- عبارت "جای سوزن انداختن نبود" کنایه از چیست؟

(۴) شلوغی ☐

(۳) غرور ☐

(۲) بیماری ☐

(۴) ترس ☐

۷- کدام گزینه، دارای صفت است؟

(۲) برای خریدن کتاب، پول نداشتم ☐

(۱) در نوجوانی برای کار به یزد رفتم ☐

(۴) با خواندن کتاب، گمان می‌کردم به بهشت رسیده‌ام ☐

(۳) پدربزرگ مهربانم برایم کتاب خواند ☐

۸- در عبارت زیر، منظور از "او" چه کسی است؟

"یکی از غلامان امیر نوح سامانی، سراسیمه نزد بوعلی سینا آمد و گفت: "امیر در حال مرگ است. پزشکان بسیاری برای او آورده اند اما

آن‌ها آن‌ها نتوانستند او را درمان کنند. اکنون برای درمان او، شما را احضار کرده اند."

(۴) یکی از پزشکان ☐

(۳) غلام ☐

(۲) ابوعلی سینا ☐

(۱) امیر نوح سامانی ☐

۹- کدام گزینه، با بقیه تفاوت دارد؟

(۴) چمن زار ☐

(۳) گندم زار ☐

(۲) گل زار ☐

(۱) بازار ☐

۱۰- کدام گزینه، با بقیه متفاوت است؟

(۲) وحوش، وحشی، محشر ☐

(۱) حاصل، محصول، تحصیل ☐

(۴) لطف، لطیف، الطاف ☐

(۳) رحم، رحیم، رحمت ☐

۱۱- در کدام گزینه، ترتیب "حروف ربط" درست آمده است؟

"مامان جلوی در مدرسه کنار والدین دیگر ایستاده بود..... به من نگاه می کرد. من هم دائم او را نگاه می کردم مبدا از آن جا برود. همه‌ی حواسم به مامان بود در یک چشم به هم زدن، دیگر او را ندیدم."

- (۱) اما، که، و ☐ (۲) و، اما، که ☐ (۳) اما، و، که ☐ (۴) و، که، اما ☐

۱۲- در جاهای خالی جمله‌ی "..... صحن پر بود از زائرانی که با هزاران آرزوی قشنگ آمده بودند و صدای تکبیر از هر سو شنیده می شد." کدام واژه‌ها قرار می گیرند؟

- (۱) سراسر، دمام ☐ (۲) سراسر، سراسر ☐ (۳) لبالب، دمام ☐ (۴) سراسر، گرداگرد ☐

۱۳- در کدام گزینه، مهم ترین قسمت جمله وجود ندارد؟

- (۱) مادر موسی، چو موسی را به نیل ☐ (۲) دایه اش سیلاب و موجش مادر است ☐

- (۳) رودها از خود نه طغیان می کنند ☐ (۴) چون رهی، زین کشتی بی ناخدای؟ ☐

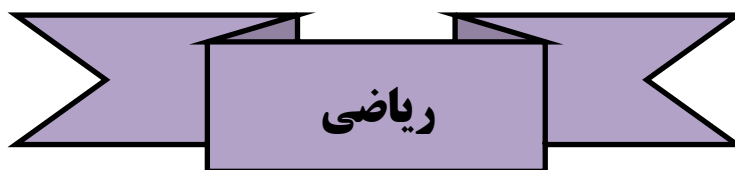
۱۴- در کدام گزینه غلط املائی وجود دارد؟

- (۱) عجیب و غریب ☐ (۲) ذوق و قریهه ☐ (۳) طبع پر شور ☐ (۴) قضای آسمان ☐

۱۵- مفهوم شعر "شیر و موش" با کدام یک از گزینه های زیر، هم خوانی دارد؟

- (۱) عالم بی عمل به چه ماند؟ به زنبور بی عسل ☐ (۲) چو دانی و پرسی، سواست خطاست. ☐

- (۳) دیگ به دیگچه می گوید: روت سیاه ☐ (۴) از هر دست بدهی، از همان دست می گیری. ☐



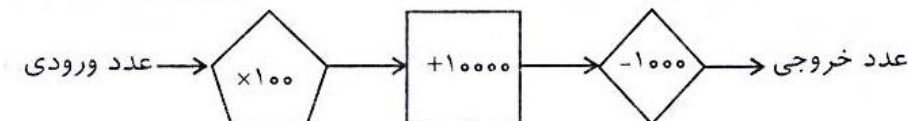
۷۵۶۳۰۴۷۸

۱۶- عدد مقابل، با تقریب صد هزارتایی چند است؟

- (۱) هفتاد و پنج میلیون ☐ (۲) هشتاد میلیون ☐

- (۳) هفتاد و پنج میلیون و شش صد هزار ☐ (۴) هفتاد و شش میلیون ☐

۱۷- یک دستگاه عددساز هر عددی را که بگیرد عملیات زیر را روی آن عدد انجام می دهد. اگر عدد ورودی ۱۲ باشد عدد خروجی کدام یک از عددهای زیر است؟

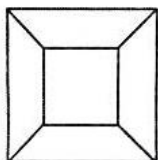


- (۱) ۱۰۲۰۰۰ ☐

- (۲) ۱۰۲۰۰ ☐

- (۳) ۱۰۰۲۰۰ ☐

- (۴) ۱۲۰۰۰ ☐



۱۸- در شکل زیر چند زاویه تند وجود دارد؟

☐ ۲۰ (۴)

☐ ۱۶ (۳)

☐ ۸ (۲)

☐ ۴ (۱)

۱۹- عدد $1/7$ بین کدام دو عدد قرار دارد؟

☐ $1 \frac{3}{5}$ و ۱ (۴)

☐ $2 \frac{1}{4}$ و ۲ (۳)

☐ ۲ و ۳ (۲)

☐ $1 \frac{4}{5}$ و ۲ (۱)

۲۰- نقشه‌ی زیر، نقشه‌ی یک خانه است. می‌خواهیم فضای مشخص شده روی شکل در قسمت آشپزخانه، پذیرایی و اتاق خواب‌ها را

سرامیک کنیم. چند متر مربع سرامیک لازم است؟

☐ ۶۵ (۲)

☐ ۷۰ (۱)

☐ ۹۰ (۴)

☐ ۷۵ (۳)

۲۱- مساحت یک مربع و یک مستطیل با هم برابر است. اگر طول ضلع مربع برابر ۱۶ و عرض مستطیل برابر ۸ باشد، طول مستطیل برابر

چند واحد است؟

☐ ۸ (۲)

☐ ۱۶ (۱)

☐ ۲۴ (۴)

☐ ۳۲ (۳)

۲۲- مادر سارا برای تولد او یک جعبه شیرینی در ۶ ردیف ۹ تایی خریده است. اگر بچه‌ها $\frac{1}{3}$ شیرینی‌ها را خورده باشند، چند شیرینی باقی مانده است؟

☐ ۳۰ (۴)

☐ ۲۰ (۳)

☐ ۳۶ (۲)

☐ ۱۸ (۱)

۲۳- برنامه‌ی یک روز در هفته‌ی مریم در تعطیلات تابستان به صورت زیر است:

شنبه			
زبان	زنگ تفریح	استخر	رفت و برگشت به خانه
۹:۴۰-۸:۰۰	یک ربع ساعت	۱۱:۲۰-۹:۵۵	۶۵ دقیقه

با توجه به جدول، مریم، روزهای شنبه چند ساعت بیرون از منزل است؟

☐ ۲۶۵ دقیقه (۲)

☐ ۴ ساعت و ۴۵ دقیقه (۱)

☐ گزینه‌ی ۲ و ۳ هر دو درست است. (۴)

☐ ۴ ساعت و ۲۵ دقیقه (۳)

۲۴- نمودار خط شکسته‌ی زیر، میزان استفاده‌ی یک خانوادگی چهار نفره از آب را در چهار فصل سال نشان می‌دهد. با توجه به آن، کدام

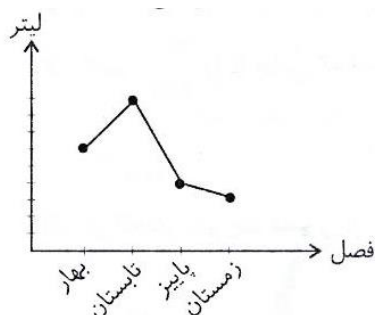
یک از گزینه‌های زیر درست است؟ ☐

(۱) کم‌ترین میزان مصرف آب، مربوط به تابستان است. ☐

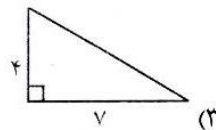
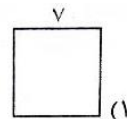
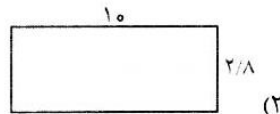
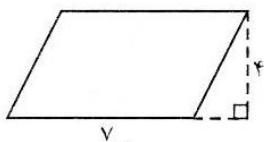
(۲) مردم در فصل بهار، کم‌تر از فصل پاییز، آب مصرف می‌کنند. ☐

(۳) بیشترین مشکل کمبود آب، در فصل تابستان است. ☐

(۴) گزینه‌های ۱ و ۳ ☐



۲۵- مساحت متوازی الاضلاع زیر با مساحت کدام یک از شکل‌های داده شده برابر است؟



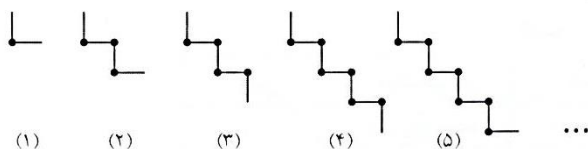
(۴) هر سه گزینه

پایه چهارم

۲۶- ۱۷ بسته‌ی ۳۵۰۰ تومانی مروارید را می‌خواهیم در ۱۱ کارتن جای دهیم. ارزش تقریبی هر کارتن چقدر می‌شود؟

- (۱) ۵۰۰۰ تومان ☐ (۲) ۲۰۰۰ تومان ☐ (۳) ۴۰۰۰ تومان ☐ (۴) ۳۵۰۰ تومان ☐

۲۷- در الگوی زیر، شکل نهم، چند تا () خواهد داشت؟



- (۱) ۱۲ ☐ (۲) ۱۵ ☐
(۳) ۱۰ ☐ (۴) ۱۳ ☐

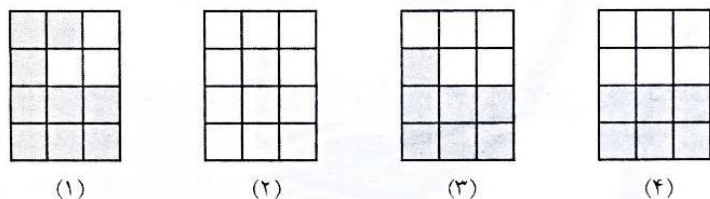
۲۸- گنجایش یک فنجان قهوه $\frac{1}{3}$ گنجایش استکان و گنجایش استکان یک قوری است. اگر قیمت ۱ فنجان قهوه، ۴۳۰۰ تومان باشد قیمت یک قوری قهوه چقدر است؟

- (۱) ۱۲۹۰۰ ☐ (۲) ۱۷۲۰۰ ☐ (۳) ۵۱۶۰۰ ☐ (۴) هیچکدام ☐

۲۹- کسر $\frac{360}{552}$ را تا جایی که امکان داشته ساده کرده ایم، حاصل کدام است؟

- (۱) $\frac{90}{138}$ ☐ (۲) $\frac{5}{23}$ ☐ (۳) $\frac{45}{69}$ ☐ (۴) $\frac{15}{23}$ ☐

۳۰- در الگوی زیر چه کسری از شکل (۲) نباید رنگ شود؟



- (۱) $\frac{5}{12}$ ☐
(۲) $\frac{2}{12}$ ☐
(۳) $\frac{1}{2}$ ☐
(۴) $\frac{1}{3}$ ☐

قرآن و هدیه‌های آسمانی

۳۱- کدام یک از گزینه‌های زیر، کلمات متضاد هستند؟

- (۱) علیم، قدیر ☐ (۲) قلیل، کثیر ☐ (۳) سمیع، بصیر ☐ (۴) صلاه، زکات ☐

۳۲- کدام یک، تلفظ حروف مقطعه را درست نشان می‌دهد؟

- (۱) کهیعص: کاف‌ها یا عین صا ☐ (۲) طسم: ط سین م ☐
(۳) المص: الف لام میم صاد ☐ (۴) طه: ط ه ☐

۳۳- کدام یک از ترجمه‌های زیر، نادرست است؟

- (۱) رحیم: مهربان ☐ (۲) حبه: دانه ☐
(۳) خلق: خلق کرد ☐ (۴) قال: بگو ☐

۳۴- کدام عبارت، تعداد حروف ناخوانای بیش‌تری دارد؟

- (۱) فَاسْتَجَبْنَا لَهُ وَوَهَبْنَا لَهُ يَحْيَى ☐ (۲) رَبَّنَا آتِنَا لَنَا نَارًا وَاعْفُرْ لَنَا ☐

- (۳) رَبِّ أَنْزِلْنِي مُنْزَلًا مُبَارَكًا وَأَنْتَ خَيْرُ الْمُنْزِلِينَ ☐ (۴) أَفَلَا يَنْظُرُونَ إِلَى الْإِبِلِ كَيْفَ خُلِقَتْ ☐

۳۵- در نماز جماعت باید تمام کارها بدون پس از امام جماعت انجام داد و ما نباید در رکعت اول و دوم نماز جماعت، را بخوانیم.

- (۱) فاصله، قنوت ☐ (۲) فاصله، حمد و سوره ☐
(۳) فکر، حمد و سوره ☐ (۴) دقت، حمد ☐

۳۶- در نماز آیات، پس از گفتن، به رکوع سوم می‌رویم.

- (۱) قُلْ هُوَ اللَّهُ أَحَدٌ ☐ (۲) بِسْمِ اللَّهِ الرَّحْمَنِ الرَّحِيمِ ☐

- (۳) لَمْ يَلِدْ وَلَمْ يُولَدْ ☐ (۴) اللَّهُ الصَّمَدُ ☐

۳۷- مرقد حضرت معصومه، خواهر امام رضا(ع)، در شهر قرار دارد و دشمن امام رضا(ع) که ایشان را به ایران آورد و به شهادت رساند، بود.

- (۱) قم، مامون ☐ (۲) مشهد، مامون ☐ (۳) شیراز، هارون الرشید ☐ (۴) قم، هارون الرشید ☐

۳۸- کدام جمله، نادرست است؟

- (۱) دوست مومن، عیب ما را بزرگ و کوچک نمی‌کند. ☐
(۲) اولین پیام خدا برای پیامبر اسلام(ص) این بود: ☐
(۳) از لقب‌های امام نهم، جواد به معنای پاک است. ☐
(۴) اگر استفاده از آب برای بدن ضرر داشته باشد، باید تیمم کنیم. ☐

۳۹- دشمنان اسلام، پیامبر و یارانش را سال در محاصره نگه داشتند و آن‌ها را از آب و غذا محروم کردند؛..... نیز در این مدت آن جا بود و مثل همه در رنج و سختی زندگی می‌کرد.

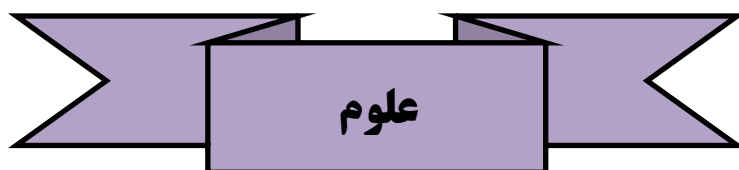
(۱) ده، حضرت خدیجه ☐ (۲) سه، حضرت خدیجه ☐

(۳) سیزده، حضرت فاطمه ☐ (۴) یک، حضرت فاطمه ☐

۴۰- چه کسانی اعمال و رفتار ما را ثبت می‌کنند؟

(۱) فرشتگان ☐ (۲) پیامبران ☐

(۳) معلمان ☐ (۴) دانشمندان ☐



۴۱- کدام گزینه در مورد ذوب شدن برف درست است؟

(۱) در شرایط یکسان برف‌های گل آلود زودتر از برف‌های تمیز ذوب می‌شوند. ☐

(۲) در شرایط یکسان برف‌های تمیز زودتر از برف‌های گل آلود ذوب می‌شوند. ☐

(۳) در شرایط یکسان برف‌های گل آلود و تمیز با هم ذوب می‌شوند. ☐

(۴) زمان ذوب شدن برف‌ها فقط بستگی به دمای محیط دارند. ☐

۴۲- مخلوط کدام ماده با آب یکنواخت و شفاف است؟

(۱) روغن مایع ☐ (۲) نشاسته ☐

(۳) گچ ☐ (۴) نمک خوراکی ☐

۴۳- در صورت قطع برق منزل کدام وسیله می‌تواند به کار خود ادامه دهد؟

(۱) ماشین لباسشویی ☐ (۲) ماکروفر ☐

(۳) کامپیوتر ☐ (۴) رادیوی جیبی ☐

۴۴- چهار میله‌ی هم طول و هم دما داریم. اگر نقطه‌ی (الف) در هر چهار میله را به یک اندازه گرم کنیم، پس از یک دقیقه در کدام میله

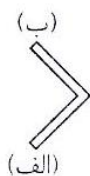
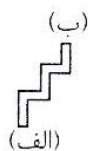
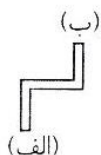
اختلاف دما بین نقطه‌های (الف) و (ب) بیش‌تر خواهد بود؟

(۱) میله‌ی نقره‌ای ☐

(۲) میله‌ی آهنی ☐

(۳) میله‌ی شیشه‌ای ☐

(۴) میله‌ی مسی ☐



میله‌ی نقره‌ای

میله‌ی آهنی

میله‌ی شیشه‌ای

میله‌ی مسی

۴۵- کدام گزینه، درست نیست؟

(۱) گرما، در تشکیل سنگ‌های آذرین و دگرگونی نقش مهمی دارد. ☐

(۲) آهک، یک سنگ دگرگونی است. ☐

(۳) از بعضی سنگ‌ها در آشپزی استفاده می‌کنیم. ☐

(۴) بعضی از سنگ‌های رسوبی، لایه لایه اند. ☐

۴۶- دو آهن ربای تیغه‌ای را مانند شکل زیر، روی ماشین‌های اسباب بازی چسبانده، ماشین‌ها را رو به روی هم قرار داده و با دست آن‌ها را

نگه داشته ایم. با برداشتن هم زمان دست‌ها، چه اتفاقی می‌افتد؟

(۱) ماشین‌ها به هم نزدیک می‌شوند. ☐

(۲) ماشین‌ها از هم دور می‌شوند. ☐

(۳) ماشین‌ها ابتدا به هم نزدیک و سپس از هم دور می‌شوند. ☐

(۴) ماشین‌ها حتما ساکن می‌مانند. ☐

۴۷- یکی از ستاره‌های کهکشان راه شیری است.

(۱) ماه ☐

(۲) خورشید ☐

(۳) زهره ☐

(۴) زمین ☐

۴۸- نزدیک ترین همسایه‌ی زمین، کدام است؟

(۱) زهره ☐

(۲) مریخ ☐

(۳) ماه ☐

(۴) مشتری ☐

۴۹- محل اصلی جذب غذا و دفع مواد گوارش نیافته از لوله‌ی گوارش، به ترتیب کدام است؟

(۱) روده‌ی بزرگ، روده‌ی باریک ☐

(۲) روده‌ی باریک، روده‌ی بزرگ ☐

(۳) معده، روده‌ی باریک ☐

(۴) معده، روده‌ی بزرگ ☐

۵۰- به طور معمول و طبیعی کدام گزینه نادرست است؟

(۱) تعداد نبض = تعداد ضربان قلب ☐

(۲) تعداد دم = تعداد بازدم ☐

(۳) تعداد تنفس = تعداد ضربان قلب ☐

(۴) تعداد نبض < تعداد تنفس ☐

۵۱- کدام عبارت زیر در مورد ویژگی‌های مورچه درست است؟

(۱) بدن دو قسمتی دارد. ☐

(۲) جزو گروه سخت پوستان است. ☐

(۳) تعداد پاها بیشتر از پاهای عنکبوت است. ☐

(۴) دارای پوشش سخت است. ☐

۵۲- کدام یک از ویژگی‌های گل سوسن محسوب می‌شود؟

(۱) دانه‌ی دو قسمتی دارد. ☐

(۲) تعداد گلبرگ‌ها ۳ یا مضربی از ۳ است. ☐

(۳) ریشه‌ی راست دارد. ☐

(۴) برگ‌های پهن دارد. ☐

۵۳- زنبور به تولید در گیاهان کمک می‌کند.

- (۱) دانه‌ی گرده ☐ (۲) دانه ☐ (۳) شهد گل ☐ (۴) عسل ☐

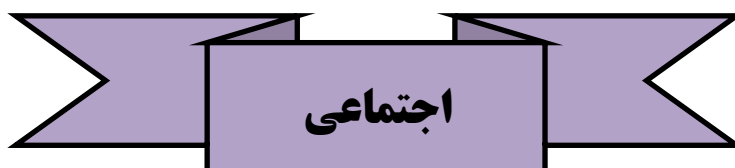
۵۴- در زنجیره‌ی غذایی زیر کدام جاندار می‌تواند در جای خالی قرار گیرد؟

- عقاب جغد کفشدوزک شته برگ
(۱) دانه‌ی گیاه ☐ (۲) گنجشک ☐ (۳) مار ☐ (۴) ملخ ☐

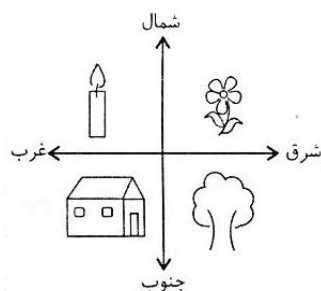
۵۵- کشاورزان چگونه باعث آلوده شدن آب‌ها می‌شوند؟

- (۱) با استفاده از کودهای طبیعی ☐ (۲) زیر و رو کردن خاک ☐

- (۳) کاشت گیاهان گوناگون ☐ (۴) با استفاده از کودهای شیمیایی ☐



۵۶- در شکل رو به رو، شمع در کدام جهت قرار دارد؟



- (۱) شمال ☐

- (۲) مغرب ☐

- (۳) شمال غربی ☐

- (۴) شمال شرقی ☐

۵۷- تمدن ایلام در ناحیه‌ای که امروز نام دارد، پدید آمد.

- (۱) ایلام ☐ (۲) آذربایجان ☐ (۳) خوزستان ☐ (۴) لرستان ☐

۵۸- کدام گزینه، رابطه‌ی اقدامات داریوش و نتایج آن را به درستی نشان می‌دهد؟

- (۱) ساختن سکه‌های طلا، رونق چاپارخانه‌ها ☐

- (۲) ساختن راه‌ها، نزدیک کردن شهرها به یکدیگر ☐

- (۳) ساختن چاپارخانه‌ها، ارتباط سریع‌تر بین شهرها ☐

- (۴) تشکیل سپاه ده هزار نفری، آمادگی همیشگی برای جنگ ☐

۵۹- رشته کوه جنوب غربی و پهناورترین جلگه‌ی ایران به ترتیب چه نام دارد؟

- (۱) زاگرس، خوزستان ☐ (۲) البرز، خوزستان ☐

- (۳) البرز، لوت ☐ (۴) زاگرس، لوت ☐

۶۰- پوشش گیاهی کدام منطقه درست است؟

- (۱) گرم و خشک، راش ☐ (۲) گرم و خشک، بلوط ☐

- (۳) قله‌ی کوه‌ها، بلوط ☐ (۴) دامنه‌ی کوه‌ها، پسته‌ی کوهی ☐

۶۱- کدام یک از موارد زیر موجب از بین رفتن زیستگاه‌ها نمی‌شود؟

(۱) پخش زباله در محیط ☐ (۲) روشن کردن آتش در جنگل ☐

(۳) شکار جانوران ☐ (۴) ورزش در محیط زیست ☐

۶۲- قوانین مهم کشور ما در کتابی به نام..... نوشته شده و سال ایرانی..... نام دارد.

(۱) تقویم، هجری شمسی ☐ (۲) قانون اساسی، هجری قمری ☐

(۳) قانون اساسی، هجری شمسی ☐ (۴) تقویم، هجری قمری ☐

۶۳- کدام ماه‌های زیر همگی جزو ماه‌های ۳۰ روزه هستند؟

(۱) آذر، مهر، بهمن ☐ (۲) بهمن، اسفند، فروردین ☐

(۳) تیر، خرداد، مرداد ☐ (۴) شهریور، مهر، آبان ☐

۶۴- کدام یک از روزهای زیر، در کشور ما تعطیلات به مناسبت ملی هستند؟

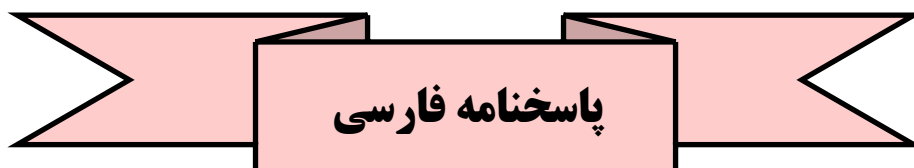
(۱) عید فطر، عید قربان، عید نوروز ☐ (۲) روزهای عید نوروز و روز ۲۲ بهمن ☐

(۳) روز ۲۲ بهمن، روزهای تاسوعا و عاشورا ☐ (۴) عید غدیر و روزهای سوگواری امام حسین(ع) ☐

۶۵- انقلاب اسلامی ایران در چه سالی و با وحدت و فداکاری چه کسانی به پیروزی رسید؟

(۱) ۱۳۵۷، سربازان کشور ☐ (۲) ۱۳۵۸، سربازان کشور ☐

(۳) ۱۳۵۷، مردم ☐ (۴) ۱۳۵۸، مردم ☐



۱- گزینه‌ی ۳

۲- گزینه‌ی ۴

۳- گزینه‌ی ۳

۴- گزینه‌ی ۱

۵- گزینه‌ی ۲

۶- گزینه‌ی ۴

۷- گزینه‌ی ۳

۸- گزینه‌ی ۱

۹- گزینه‌ی ۱

۱۰- گزینه‌ی ۲

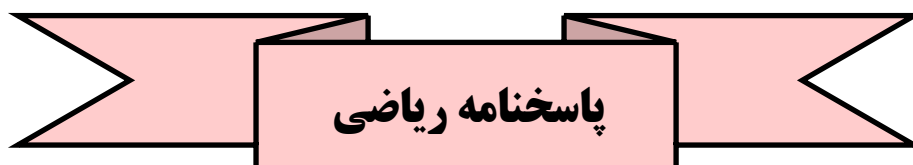
۱۱- گزینه‌ی ۴

۱۲- گزینه‌ی ۱

۱۳- گزینه‌ی ۱

۱۴- گزینه‌ی ۲

۱۵- گزینه‌ی ۴



۱۶- گزینه‌ی ۳

۱۷- گزینه‌ی ۲

۱۸- گزینه‌ی ۲

۱۹- گزینه‌ی ۳

۲۰- گزینه‌ی ۱

۲۱- گزینه‌ی ۳

۲۲- گزینه‌ی ۲

۲۳- گزینه‌ی ۴

۲۴- گزینه‌ی ۳

۲۵- گزینه‌ی ۲

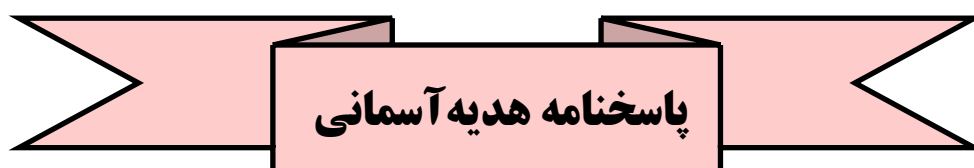
۲۶- گزینه‌ی ۱

۲۷- گزینه‌ی ۴

۲۸- گزینه‌ی ۳

۲۹- گزینه‌ی ۴

۳۰- گزینه‌ی ۴



۳۱- گزینه‌ی ۲

۳۲- گزینه‌ی ۳

۳۳- گزینه ی ۴

۳۴- گزینه ی ۳

۳۵- گزینه ی ۲

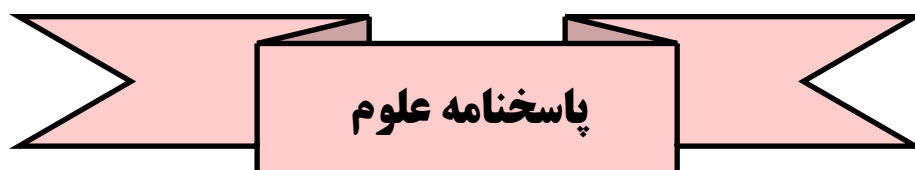
۳۶- گزینه ی ۴

۳۷- گزینه ی ۱

۳۸- گزینه ی ۳

۳۹- گزینه ی ۲

۴۰- گزینه ی ۱



۴۱- گزینه ی ۱

۴۲- گزینه ی ۴

۴۳- گزینه ی ۴

۴۴- گزینه ی ۳

۴۵- گزینه ی ۲

۴۶- گزینه ی ۲

۴۷- گزینه ی ۲

۴۸- گزینه ی ۳

۴۹- گزینه ی ۲

۵۰- گزینه ی ۳

۵۱- گزینه ی ۴

۵۲- گزینه ی ۲

۵۳- گزینه ی ۲

۵۴- گزینه ی ۲

۵۵- گزینه ی ۴

پاسخنامه اجتماعی

پایه چهارم

۵۶ - گزینه ۳

۵۷ - گزینه ۳

۵۸ - گزینه ۴

۵۹ - گزینه ۱

۶۰ - گزینه ۴

۶۱ - گزینه ۴

۶۲ - گزینه ۳

۶۳ - گزینه ۱

۶۴ - گزینه ۲

۶۵ - گزینه ۳

