







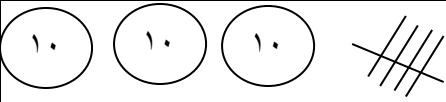



نام:	«به نام دانای هستی بخش» اداره کل آموزش و پرورش استان مازندران اداره آموزش و پرورش ساری ناحیه دو	سال تحصیلی: ۹۴-۹۵
نام خانوادگی:		تاریخ: ۱۳۹۴/۶/۱۶
پایه: دوم ابتدایی		نوبت: سطح <input type="checkbox"/> کلاسی <input checked="" type="checkbox"/> اول <input type="checkbox"/> دوم <input type="checkbox"/>
نام درس:	نام آموزگار: نرگس اکبرنژاد	زمان: ۶۰ دقیقه

ردیف	ریاضی																
۱	تعداد مربع های خاکستری چند تا بیشتر از تعداد مربع های سفید است ؟ (الف) ۸ (ب) ۶ (پ) ۹ (ت) ۷ 																
۲	این سه پلیکان روی هم چند ماهی گرفته اند ؟ <div> <div>۱-م: ۲ تا ماهی گرفته</div>  <div>۳-من از شماره یک بیشتر و از شماره ۲ کمتر ماهی گرفتم.</div> </div> <div>۲-م: ۴ تا ماهی گرفته.</div>																
۳	کدام عدد مربوط به شکل مقابل است ؟ (الف) ۴۴ (ب) ۲۱ (پ) ۲۳ (ت) ۴۰ 																
4	کدام عدد کوچک تر از عدد های دیگر است ؟ (الف) ۷۸ (ب) ۸۷ (پ) ۹۷ (ت) ۷۹ (۷۹-۹۷-۸۷-۷۸)																
5	در جای خالی چه شکلی قرار میگیرد ؟ (الف)  (ب)  (پ)  (ت)  																
6	با توجه به شکل کدام جدول ارزش مکانی درست است ؟ (الف) <table border="1" data-bbox="1276 1680 1460 1780"><tr><td>۵</td><td>۳</td></tr><tr><td>ی</td><td>د</td></tr></table> (ب) <table border="1" data-bbox="1061 1680 1244 1780"><tr><td>۵</td><td>۳</td></tr><tr><td>ی</td><td>د</td></tr></table> (پ) <table border="1" data-bbox="805 1680 989 1780"><tr><td>۲</td><td>۵</td></tr><tr><td>ی</td><td>د</td></tr></table> (ت) <table border="1" data-bbox="630 1680 813 1780"><tr><td>۲</td><td>۵</td></tr><tr><td>ی</td><td>د</td></tr></table> 	۵	۳	ی	د	۵	۳	ی	د	۲	۵	ی	د	۲	۵	ی	د
۵	۳																
ی	د																
۵	۳																
ی	د																
۲	۵																
ی	د																
۲	۵																
ی	د																
7	در کدام علامت را باید قرار داد ؟ (الف) + (ب) < (پ) > (ت) = ۱۹-۷ ۵+۳																
۸	هر مرغ در هر روز یک تخم می گذارد . دو مرغ در ۶ روز چند تخم می گذارند ؟ روی محور نشان بده و جواب مورد نظر را انتخاب کن . 																
	(الف) ۱۰ (ب) ۶ (پ) ۱۲ (ت) ۹																

۹	حمید ۲ بسته ی ده تایی و ۲ یکی مداد دارد. برادرش هم ۳ بسته ی ده تایی مداد دارد. آن ها روی هم چند مداد دارند ؟ الف (۷) ب (۵) پ (۵۲) ت (۲۵)
	علوم
۱	کدام یک از حیوانات زیر حس بویایی قوی دارد ؟ الف (گوسفند ب (مار پ (مرغ ت (سگ
۲	کدام خوراکی زیر مفید است ؟ الف (میوه ب (پفک پ (نوشابه ت (پیتزا
۳	هویج و شلغم گیاهانی هستند که آن ها خوراکی است ؟ الف (ساقه ب (برگ پ (گل ت (ریشه
۴	چه سنگی برای خوردن مناسب است ؟ الف (عقیق ب (فیروزه پ (نمک ت (کبود
۵	دو آهن ربا وقتی هم نام باشند از هم می شوند . الف (نزدیک ب (دور پ (تغییری نمی کند ت (هیچ کدام
۶	کدام یک جذب آهن ربا می شود ؟ الف (کاغذ ب (مداد پ (کلید ت (پلاستیک
۷	کدام جانور برای ما مشکلاتی به وجود می آورد ؟ الف (زنبور ب (گاو پ (ملخ ت (گوسفند
۸	قورباغه چگونه شکار می کند ؟ الف (پریدن ب (دست پ (زبان ت (خفه کردن شکارش
۹	حرکت کردن کدام حیوان با بقیه فرق می کند ؟ الف (شتر ب (گوسفند پ (مار ت (اسب
۱۰	فایده های هر جانور را به تصویر مناسب آن وصل کن.
	     

