

نام و نام خانوادگی :

بسمه تعالی

پایه اول

فارسی

۱ عزیزم، خوش خط بنویس.

ناظم

نظم

خدا حافظی

ظرف شویی

مواظبت

۲ با دو کلمه‌ی زیر یک جمله بنویس.

ناظم، نظم

۳ جدول‌ها را کامل کن.

ناظم				

مواظب					

ظالم				

۴ صداها و نشانه‌های ۴ شکلی را بنویس.

Cloud shapes for writing practice.

۵ به سؤال‌های زیر پاسخ بده.

مادر حضرت محمد (ص) چه نام داشت؟

حضرت محمد (ص) در کدام شهر به دنیا آمد؟

روزی که حضرت محمد به پیامبری رسید، چه نام دارد؟

۶ مخالف کلمه‌های زیر را بنویس.

بلند

خیس

تاریک

زردنگ

نام و نام خانوادگی :

بسمه تعالی

پایه اول

۷ برای هر نشانه ۳ کلمه بنویس.

.....	ز
.....	ذ
.....	ض
.....	ظ

۸ اسم نشانه‌های زیر را بنویس.

ص ص ص ←

ذ ←

ع ع ع ←

ف ف ←

ظ ←

غ غ غ ←

۹ عزیزم چه موقع سلام می‌کنیم؟

..... چه موقع خدا حافظی می‌کنیم؟ 

۱ جمع را روی محور اعداد نمایش بده.


ریاضی

$$۲ + ۵ + ۴ + ۳ =$$



یک مسأله بنویس و حل کن.

$$۳ + ۵ + ۴ =$$

۲ برای جمع 

..... 




.....

نام و نام خانوادگی :

بسمه تعالی

پایه اول

۳ جدول را کامل کن.

			شکل
.....	مستطیل	نام شکل
.....	تعداد گوشه

۴ در جاهای خالی عدد مناسب بنویس.


۳۵ برابر است با ده تایی و یکی

۹۰ برابر است با ده تایی و یکی

۷ ده تایی و ۹ یکی می شود

۶ ده تایی و ۴ یکی می شود:

۵ عدد را از جدول بیرون بیاور و با رقم و حروف بنویس و برای آن شکل بکش.



ده تایی	یکی
۳	۹

با رقم: با حروف:

۶ از عدد ۹۰ تا ۱۰۰ یکی یکی بنویس.



۷ در باغ وحش ۹ خرگوش سفید و ۶ خرگوش خاکستری بود. ۴ تا از خرگوش ها را به جای دیگر بردند. حالا در باغ وحش چند خرگوش مانده است؟

..... + =

در باغ وحش خرگوش بود.

..... - =

حالا در باغ وحش خرگوش مانده است.

نام و نام خانوادگی :

بسمه تعالی

پایه اول


۸ در جای خالی عددهای مناسب بنویس.

< <



> >

علوم

۱ کدام قسمت آهن ربا قوی تر است با (X) مشخص کن.



۲ گرمای زمین از کجا به دست می آید.



۳ کدام وسیله‌ی روشنایی، قدیمی تر است؟



۴ امروزه برای مطالعه از چه وسیله‌ای استفاده می کنیم؟



۵ کدام وسیله برای روشن شدن نیاز به باتری دارد؟

