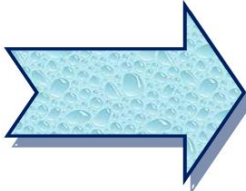



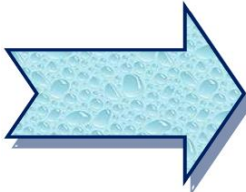



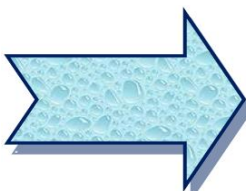



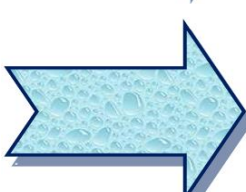













پسرم در جاهای خالی عدد یا نوشته ی مناسب بنویس . آموزگار و طراح : شاه پوری

	 ۹۰		 چهل و شش
	 ۸۲		 هفتاد
	 ۱۹		 سی و هشت
	 ۹۱		 پنجاه و یک
	 ۷۵		 شصت و سه
	 ۸۹		 نود و هشت

عزیزم عدد ها را از بیشتر به کمتر مرتب کن . (از چپ به راست )

---




---



---



حالا عدد ها را از کمتر به بیشتر مرتب کن




---



---



---

هر ردیف را کامل کن .

۱۵	۲۰							
----	----	--	--	--	--	--	--	--



۴۴	۴۵							
----	----	--	--	--	--	--	--	--

۳۰	۴۰						
----	----	--	--	--	--	--	--



در جای خالی یا عدد یا علامت مناسب بگذار. ( $< = >$ )

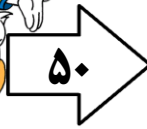
۷۸

۸۷


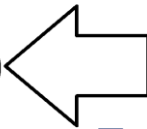


۹۱

۱۹



$>$



$<$




نوشتن اعداد را ادامه بده.

۳۵









$+5$

$+5$

$+5$










۶۵

$-5$

$-5$

$-5$



\_\_\_\_\_



\_\_\_\_\_



\_\_\_\_\_



\_\_\_\_\_



\_\_\_\_\_



\_\_\_\_\_



\_\_\_\_\_



\_\_\_\_\_



\_\_\_\_\_



\_\_\_\_\_



\_\_\_\_\_

عدد هر دسته را بنویس.

به یک کلمه ی جدید



طراح: شاه پوری

نظم-.....	دوید-.....	خاطرات-.....	تیغ-.....	مریض-.....
کمک-.....	جانور-.....	مسکن-.....	خیاط-.....	تعطیل-.....

با هر سه کلمه یک جمله بساز . ( بدون تغییر کلمه ها از آن ها استفاده کن )

تابستان - تعطیل - مسافرت - .....

تیغ - گل - درختان - .....

صبح - خورشید - طلوع - .....

خُرطوم - نفس - فیل - .....

جمله های ناقص زیر را کامل کن .

به جایی که در آن گندم و جو می کارند ..... می گویند .

به جایی که در آن برنج می کارند .....

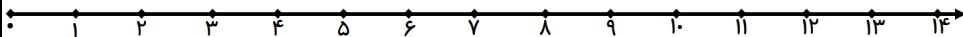
جمله های ناقص را ادامه بده تا کامل شوند .

دیروز ظهر صدای اذان از مسجد به گوش می رسید . پدرم گفت : .....

در مورد شاهنامه از بزرگترها بپرس و شنیده هایت را بنویس .

مسئله ی زیر را روی محور انجام بده و عبارت آن را بنویس . آموزگار طراح : ش . شاه پوری

۳ پروانه روی گل ها نشسته بودند . ۶ پروانه ی دیگر آمدند و روی گل ها نشستند . کمی بعد ۵ پروانه پریدند و رفتند . حالا چند پروانه روی گل ها نشسته اند ؟



برای تصویر داده شده یک مسئله ی تفریق بنویس .

.....

.....

برای عبارت زیر یک مسئله بنویس و با رسم چوب خط نشان بده . ( از مداد رنگی استفاده کن )



$$8 + 2 + 5 = 15$$

.....


.....

برای مسئله ی زیر شکل بکش .

۷ ماهی قرمز و ۵ ماهی سبز و ۴ ماهی صورتی در برکه ای زندگی می کردند . چند ماهی در این برکه زندگی می کنند ؟ ( برای این نقاشی زیبا از مدادهای رنگی ات استفاده کن . ) عبارت فراموش نشود .

آموزگار طراح : ش . شاه پوری

جاهای خالی را با کلمه ی مناسب کامل کن . ( بلند تر ، کوتاه تر ، هم اندازه ، بلند ترین ، کوتاه ترین )



پسر از دختر ..... است .



دختر از پسر ..... است .

درخت شماره ۱ و ۴ ..... هستند .

درخت شماره ۳ ..... درخت است .



زمان بین ساعت ..... و ..... است



ساعت ..... است .



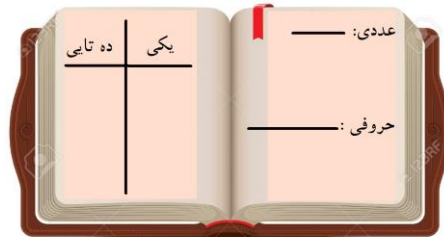

کمی مانده به ساعت .....



ساعت از ..... گذشته است .



دسته ی ده تایی درست کن و عدد را در جدول ارزش مکانی و جاهای خالی بنویس .



..... ده تایی و ..... یکی

پسرم جدول زیر را مانند نمونه انجام بده . ( حروف شامل نوشتنی هاو صدا شامل شنیدنی ها)

کلمه	حرف ها	صداها
خواندن	خ- و- ا- ز- د- ن	خ- ا- ز- د- ن
خواهر		
خواهش		
خورشید		
نوک		
خوراک		
خوش مزه		
خوش باور		
دوباره		
پلو		
موج		
نوروز		
نوزاد		
خواننده		
خاموش		
خمیده		

حروف الفبا را به ترتیب بنویس .



سلام دوست من

دانشمند با هوشم ، با توجه به حروف الفبا به سوالات زیر پاسخ بده .

طراح : شاه پوری

تعداد حروف الفبا را بنویس . .....

حروف چهار شکلی را بنویس . .....

.....

حروف سه نقطه ای کدامند؟ .....

حروف یک شکلی را نام ببر . .....

حروف هم صدا را بنویس . مثل: س - ث - ص .....

.....

کدام حروف فقط دو نقطه دارند؟ .....

کدام یک از حروف فقط در بالای آن ها نقطه قرار دارد ؟ .....

.....

حالا آن هایی را بنویس که فقط در زیر آنها نقطه قرار دارد . .....

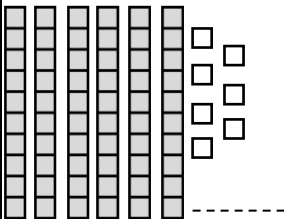
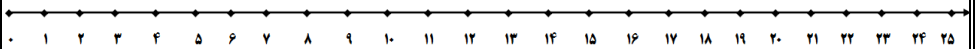
.....

کدام یک از حروف الفبا در قالب صداهای ( آ - ا - اُ - او - ای - آ ) خوانده می شود ؟ .....







پدر بزرگ دانا ۱۹ شکلات در جیبش داشت . ۵ تا از آن ها را به آرمین داد. ۳ شکلات هم به آذر داد . سينا از راه رسيد و ۴ تا هم به سينا داد . ۲ شکلات هم خودش خورد . حالا در جيب پدر بزرگ دانا چند شکلات مانده است ؟ روی محور انجام بده و عبارت آن را بنویس .



عدد هر دسته از شکل ها را بنویس .



هر عدد را با چوب خط نشان بده .

۲۸

۶۱

۱۹

۸۷



پسر باهوش و زرنکم این گل های زیبا تقدیم به شما