

۱- عدد را از جدول بیرون بیاور و با رقم و حروف بنویس و برای آن شکل بکش.

--

یکی	ده تایی
۹	۳

به رقم:




به حروف:

۲- شکل را بین و رقم های آن را در جدول ارزش مکانی قرار بده.

<table border="1"> <tr><td></td><td></td><td></td><td></td><td></td><td></td><td></td><td></td><td></td><td></td></tr> <tr><td></td><td></td><td></td><td></td><td></td><td></td><td></td><td></td><td></td><td></td></tr> <tr><td></td><td></td><td></td><td></td><td></td><td></td><td></td><td></td><td></td><td></td></tr> <tr><td></td><td></td><td></td><td></td><td></td><td></td><td></td><td></td><td></td><td></td></tr> <tr><td></td><td></td><td></td><td></td><td></td><td></td><td></td><td></td><td></td><td></td></tr> <tr><td></td><td></td><td></td><td></td><td></td><td></td><td></td><td></td><td></td><td></td></tr> <tr><td></td><td></td><td></td><td></td><td></td><td></td><td></td><td></td><td></td><td></td></tr> <tr><td></td><td></td><td></td><td></td><td></td><td></td><td></td><td></td><td></td><td></td></tr> <tr><td></td><td></td><td></td><td></td><td></td><td></td><td></td><td></td><td></td><td></td></tr> <tr><td></td><td></td><td></td><td></td><td></td><td></td><td></td><td></td><td></td><td></td></tr> </table>																																																																																																				

یکی	ده تایی	صد تایی

۳- جدول را کامل کن.

شکل			
نام شکل			دایره
تعداد گوشه ها			

۴- در باغ وحش ۹ خرگوش سفید و ۶ خرگوش خاکستری بود ۴ تا از خرگوش ها را به جای دیگر بردند. حالا چند خرگوش در باغ وحش مانده است؟

$$\dots + \dots = \dots$$

در باغ وحش خرگوش بود.

$$\dots - \dots = \dots$$

حالا در باغ وحش خرگوش مانده



۵- از عدد ۵۰ تا ۱۰۰، ۵ تا ۵ بنویس.

۵۰ ○ ○ ○ ○ ○ ○ ○ ○ ○ ○ ○ ○

۶- در جاهای خالی عدد های مناسب بنویس.

	<		<	
	>		>	

فارسی

۱- به سوال های زیر پاسخ بده.

- مادر حضرت محمد (ص) چه نام داشت؟
- حضرت محمد (ص) در کدام شهر به دنیا آمدند؟
- روزی که حضرت محمد (ص) به پیامبری رسید، چه نام دارد؟

۲- مخالف کلمه های زیر را بنویس.

خیس \neq بلند \neq
زرنگ \neq تاریک \neq

۳- برای هریک از نشانه های زیر کلمه بنویس.

ث

ص

س

پایه اول

پیش دبستانی و دبستان غیر دولتی کوهن



۴- برای هر نشانه ۳ کلمه بنویس.

ز			
ذ			
ض			
ظ			

۵- جمله بساز.

ظرف شویی ، مادر:

نظم ، رضا:

مواظب ، برادر:

۶- عزیزم چه موقع سلام می کنیم؟

.....

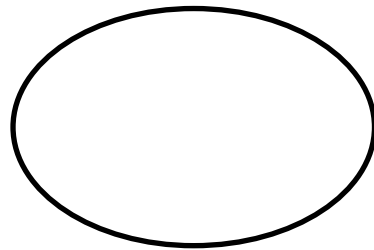
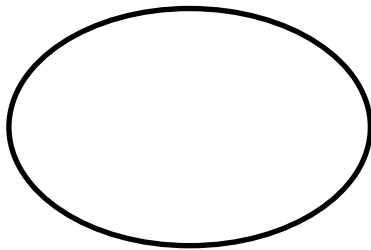
۷- چه موقع خدا حافظی می کنیم؟

.....


۱- کدام قسمت آهن ربا قوی تر است؟

۲- در زمان های بسیار قدیم مردم برای روشنایی از چه چیزهایی استفاده می کردند؟

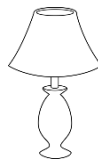
۳- در جاهای خالی ۲ مدل آهن ربا بکش.



۴- گرمای زمین از کجا به دست می آید؟



۵- امروز برای مطالعه از چه وسیله ای استفاده می کنیم؟



۶- کدام وسیله برای روشن شدن نیاز به باتری دارد؟

