

سازمان آموزش و پرورش استان فارس

آموزش و پرورش ناحیه دو شیراز

نام واحد آموزشی: دبستان دخترانه شهدای صایران



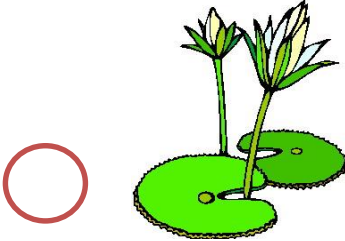
نام و نام خانوادگی:

آزمون جامع


سال تحصیلی: ۹۵-۹۶

پایه: اول

۱- کدام گیاه ساقه ی گوشتی دارد؟



۲- کدام جانور گوشت خوار است؟



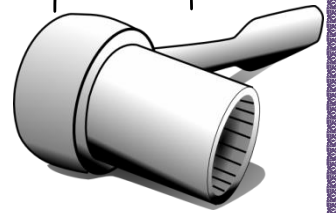
۳- آب دریا از کجا می آید؟



۴- کدام ابزار غیر بریدنی است؟



۵- کدام وسیله هم نور و هم گرما دارد؟



۶- در تابستان پوشیدن کدام رنگ لباس مناسب است؟



۷- برای گرم کردن کلاس کدام یک بهتر است؟



۸- کدام کار هم با هل دادن و هم کشیدن انجام می شود؟



۱- برای شکل ها جمع و تفریق مناسب بنویس.



..... + =



..... - =

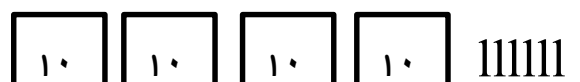
۲- در جای خالی عدد مناسب بنویس.

..... ده تایی و یکی می شود ۵۷

۱۹ می شود ۹ و ۱

۶۰ می شود ده تایی

۳- دور دسته ی کمتر خط بسته بکش و دو طرف علامت عدد مناسب بنویس.



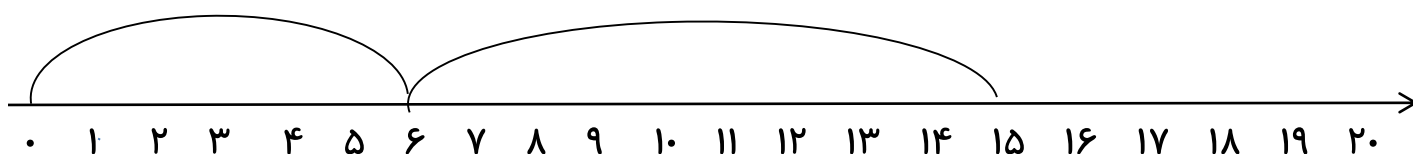
..... >

۴- جدول را کامل کن.

	۷۳		۶۰
پنجاه و هشت		نود و چهار	

۵- فرزانه ۱۲ گل آبی و ۵ گل قرمز در گلدان گذاشت. او چند گل در گلدان گذاشته است؟ (با
چوب خط)

۶- جمع یا تفریق مناسب محور را بنویس.



۷- اعداد قبل و بعد را بنویس.

..... - - - ۵۸ - - -

..... - - - ۳۴ - - -

۸- در جای خالی عدد مناسب بنویس.

$$۸ - ۳ = \dots\dots\dots$$

$$۴ + ۵ = \dots\dots\dots$$

$$۷ - \dots\dots\dots = ۶$$

$$۷ + ۰ = \dots\dots\dots$$

$$\dots\dots\dots + \dots\dots\dots = ۴$$

$$\dots\dots\dots + ۲ = ۹$$

۱- جمله بنویس.

_____ مرغابی ها :

_____ خاطرات :

۲- کامل کن.

..... دیروز به مدرسه رفتم. دیروز به مدرسه رفتی.

..... دیروز به مدرسه رفتیم. دیروز به مدرسه رفتید.

۳- مرتب کن.

با - رفتم - شنیدن - اذان - دیروز - صدای - به - مسجد

..... مردم - نمی خواستند - را - شاه

۴- برای هر نشانه یک کلمه بنویس.

ص	ض	ع	ط	ذ

۵- کلمه بساز.

ز- ز- ی- عَ / ف- د- صَ / شَ- ص- ت /

۶- نام هر تصویر را بنویس.



.....



.....



.....



.....

۷- دو کلمه بنویس که « اُ استثنا » داشته باشد.

۸- بخش و صدای هر کلمه را بنویس.

خاطرات / / /

..... / / / /

مرغابی / / /

..... / / / /

همیشه شاد و سربلند باشی.