

به نام خداوند اول و آخر

درس ریاضی



سنجش آغازین

طراح: زهره جانی پور

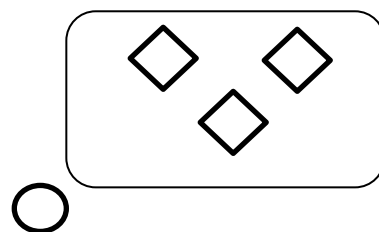
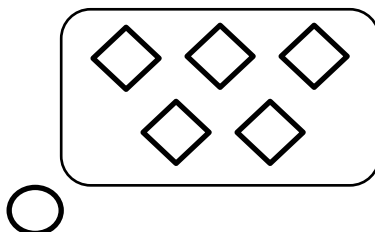
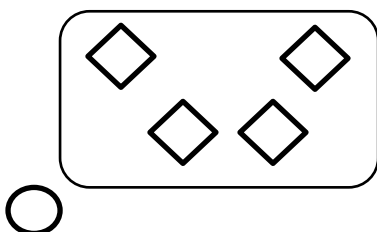
مهرماه سال

نام و نام خانوادگی:

۱- کدام موشک به سمت راست حرکت می کند؟



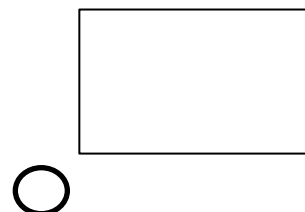
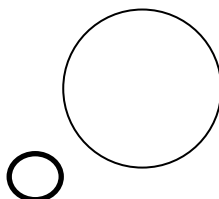
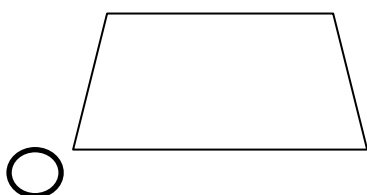
۲- تعداد شکل های کدام دسته از همه بیشتر است؟



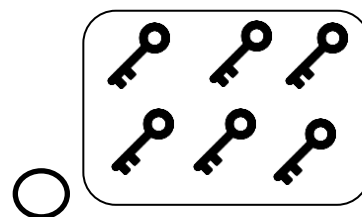
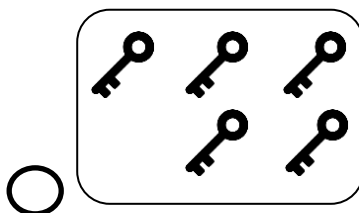
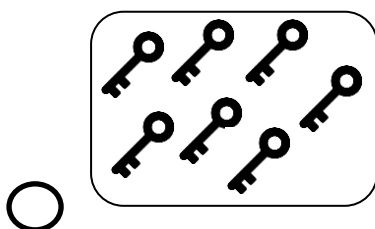

۳- کدام مداد از همه کوتاه تر است؟



۴- کدام شکل با بقیه فرق دارد؟



۵- تعداد کدام دسته از کلید ها از تعداد قفل ها کمتر است؟



به نام خداوند اول و آخر

درس علوم



سنجش آغازین

طراح: زهره جانی پور


مهرماه سال

نام و نام خانوادگی:



۱- کدام جانور گوشت خوار است؟




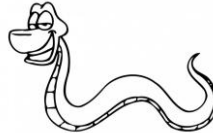

۲- برای شناخت کدام یک باید از زبان استفاده کنیم؟




۳- کدام شکل هم نور دارد هم گرما؟



۴- کدام جانور برای ما مفید است؟



۵- کدام یک برای رشد به آب احتیاج دارند؟



به نام خداوند اول و آخر

درس فارسی

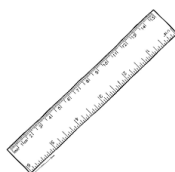
سنجش آغازین

طراح: زهره جانی پور



مهرماه سال

نام و نام خانوادگی:

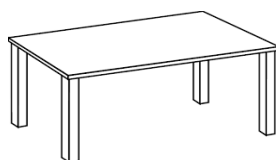

۱- کدام یک از وسایل زیر مخصوص مدرسه نیست؟



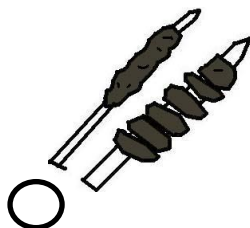
۲- صدای آخر کدام تصویر مانند یکدیگر است؟ به هم وصل کن.



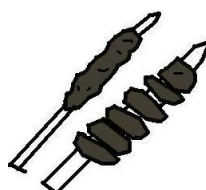
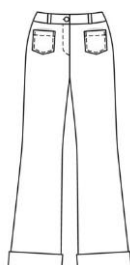
۳- در ابتدای نام کدام تصویر صدای ز می شنوی؟



۴- کدام یک برای صبحانه مناسب است؟



۵- صدای اول کدام تصویر مانند یکدیگر است؟ به هم وصل کن.



بازخورد آموزگار در درس ریاضی:

بازخورد آموزگار در درس علوم:

بازخورد آموزگار در درس فارسی: