

به نام خدا

آزمون ورودی پایه اول دبستان نویسنده: مجید فرج اله

نام آموزگار:

کلاس:

نام و نام خانوادگی:

لطفا دور پاسخ درست خط بکشید.

۱- تعداد کدام مدادها بیشتر است؟



د



ج



ب



الف

۲- در کدام شکل توپ در بالای موش قرار دارد؟



د



ج



ب



الف

۳- طول کدام درخت بیشتر است؟



د



ج



ب



الف

۴- کدام لاک پشت به سمت چپ راه می رود؟



د



ج



ب



الف

۵- در کدام سبد ۳ تا توپ قرار دارد ؟



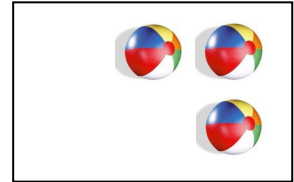
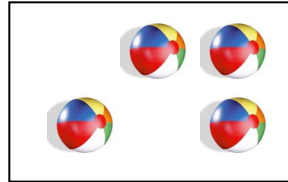
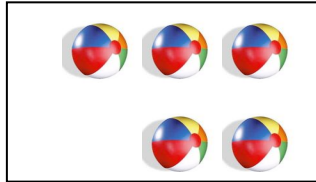

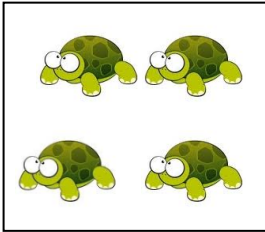
د

ج

ب

الف

۶- تعداد کدام توپ ها با تعداد لاک پشت های مقابل مساوی یا برابر است؟



د

ج

ب

الف

۷- تعداد کدام بادکنک ها از بقیه بیشتر است؟



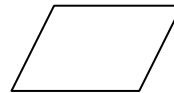
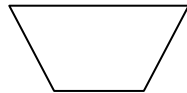
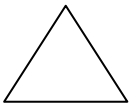
د

ج

ب

الف

۸- کدام شکل با بقیه خیلی فرق دارد ؟



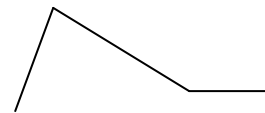
د

ج

ب

الف

۹- اردک از کدام جاده ی زیر برود تا زود تر به خانه برسد ؟



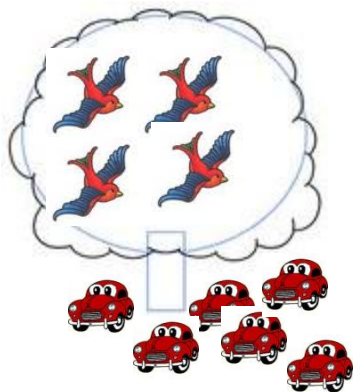
د

ج

ب

الف

۱۰- تعداد کدام ماشین های زیر از پرندگان مقابل کمتر است ؟



د



ج



ب



الف



۱۱- برای شناختن کدام شکل زیر باید از زبانمان کمک بگیریم ؟



د



ج



ب



الف

۱۲- استفاده از کدام وسیله ی زیر باعث سلامتی دندانهایمان می شود ؟



د



ج



ب



الف

۱۳- کدام جانور زیر گوشت می خورد ؟



د



ج



ب



الف

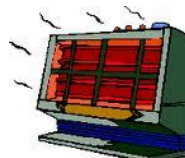
۱۴- کدام شکل زیر باعث گرم شدن کوچه و خیابان ها می شود ؟



د



ج



ب



الف

۱۵- حرکت دادن وسیله ی زیر راحت تر است ؟



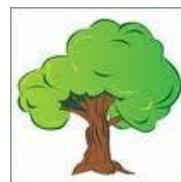
د

ج

ب

الف

۱۶- کدام یک از شکل های زیر برای بزرگ شدن به آب احتیاج دارد ؟



د

ج

ب

الف

۱۷- کدام یک از حیوانات زیر پرواز می کند ؟



د

ج

ب

الف

۱۸- برای شناختن کدام شکل از گوش هایمان استفاده می کنیم ؟



د

ج

ب

الف

۱۹- کدام جانور برای ما فایده بیشتری دارد ؟



د

ج

ب

الف

۲۰- کدام یک سنگین تر است ؟



ج



ب



الف

